


1. VIRŠ, PO, UŽ, PRIEŠ, TARP, ŠALIA, ANT

1. Nupiešk kamuolį nurodytoje vietoje.

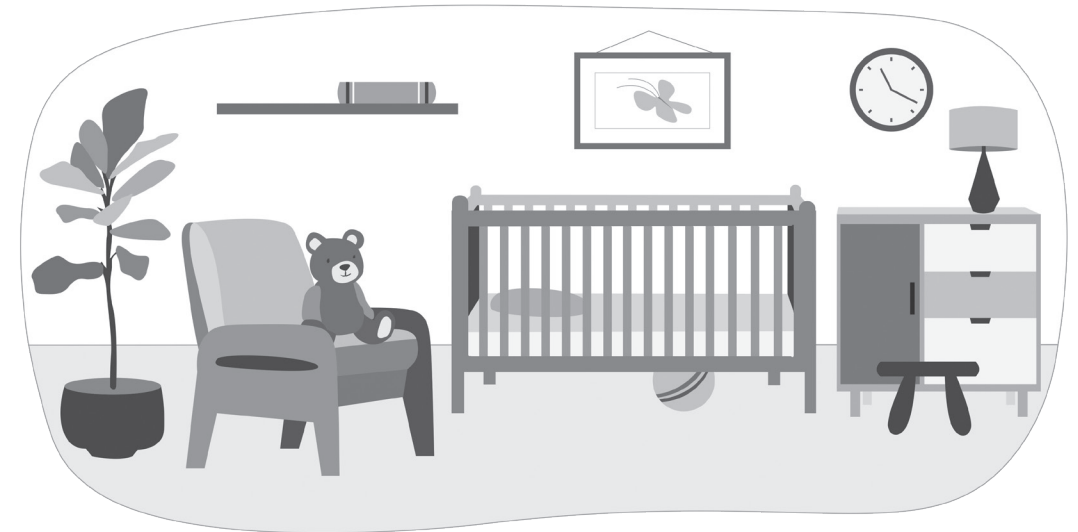
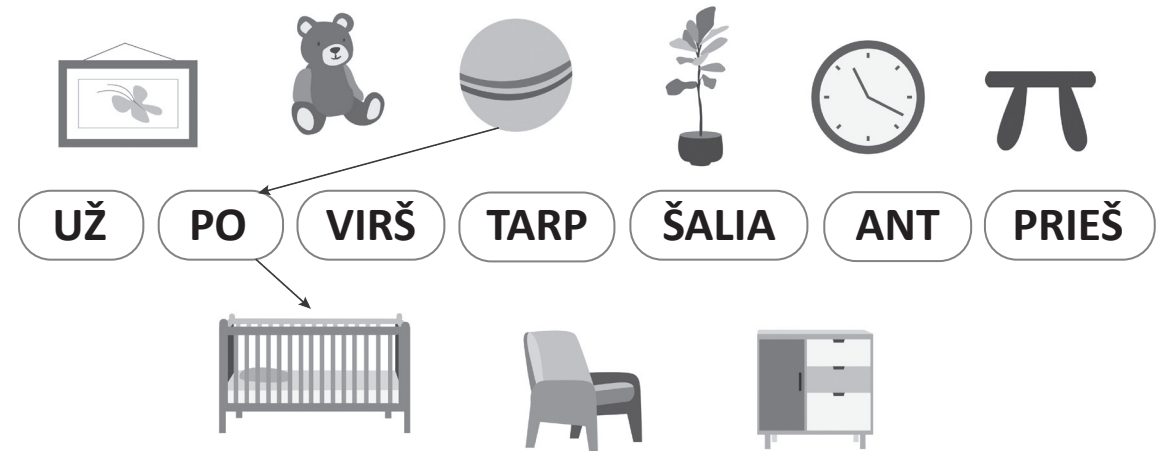


2. Nuspalvink pagal aprašymą.


1. Daiktus virš sofos nuspalvink **raudonai**.
2. Daiktus ant spintelės – **mėlynai**.
3. Baldą šalia sofos – **pilkai**.
4. Daiktą po sofa – **geltonai**.
5. Daiktą tarp sofos ir spintelės – **rudai**.
6. Gėlę šalia sofos – **žaliai**.



3. Patyrinėk paveikslėlį. Linija sujunk daiktą su žodžiu, nurodančiu, kur jis yra.



4. Pratęsk kiekvieną eilutę.




Kaip man sekasi?



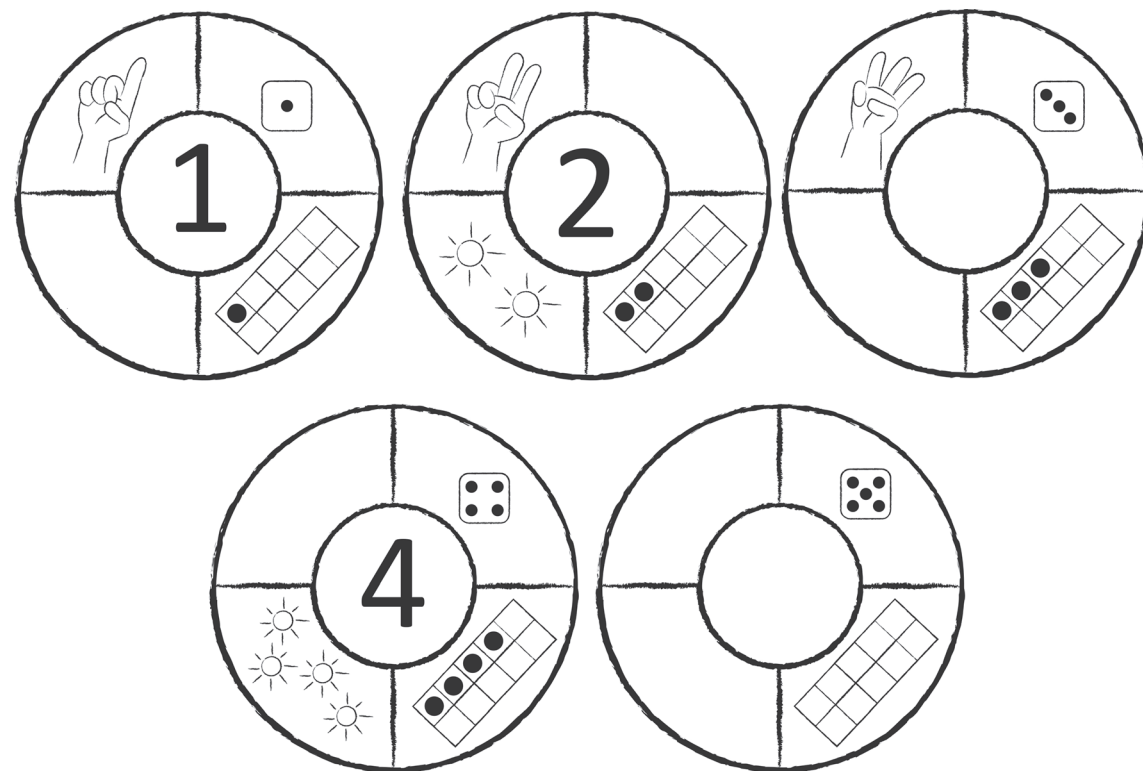
7. SKAIČIAI 1, 2, 3, 4, 5

1. Nuspalvink tiek laukelių, kiek ko matai paveikslėlyje.



DVIRAČIAI	ŽMONĖS	KELIO ŽENKLAI	ŠALMAI	ŠVIESOFORAI	PĖSČIŲJŲ PERĖJOS	KAMUOLIAI

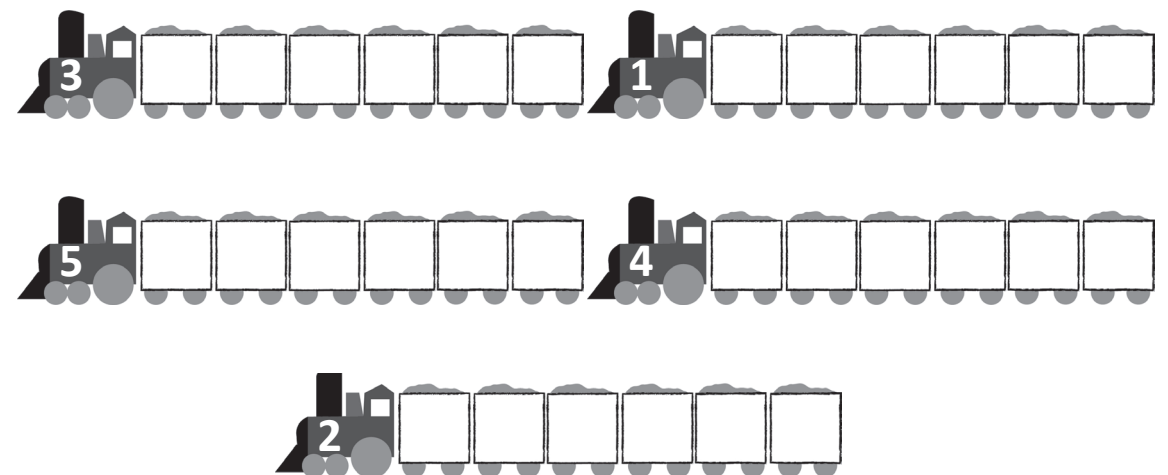
2. Baik pildyti skaičių ratus.



3. Pasimokyk rašyti.

	1	1																							
	1																								
	2	2																							
	2																								
	3	3																							
	3																								
	4	4	4																						
	4																								
	5	5	5																						
	5																								

4. Skaičius ant traukinio lokomotyvo rodo, kiek vagonų jis turi traukti. Nubrauk nereikalingus vagonus.




Kaip man sekasi?

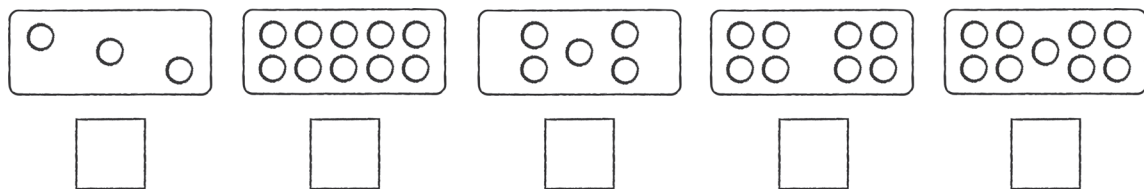


10. PAKARTOK

1. Suskaičiuok ir parašyk, kiek žvakučių dega.



2. Suskaičiuok apskritimus ir sunumeruok korteles mažėjimo tvarka.




3. Palygink ir įrašyk ženklą = arba ≠.

7	≠	8	4	4	8	9	1	2
4	5	5	9	9	10	9	7	
8	8	6	8	7	7	6	9	

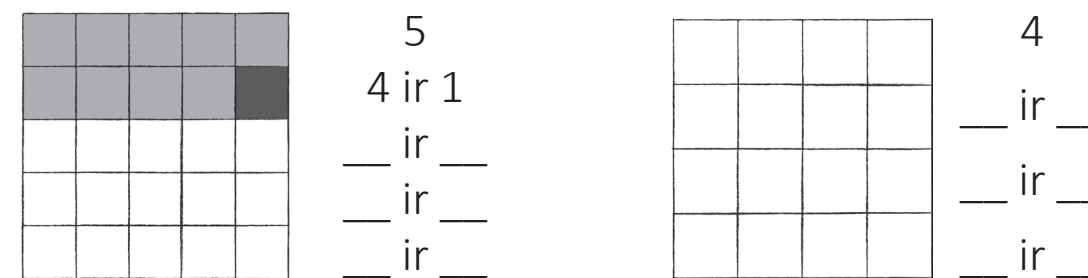
4. Palygink ir įrašyk ženklą >, < arba =.

7	<	8	8	6	10	9	4	4
9	9	6	5	5	5	2	3	
4	2	9	7	1	4	2	8	


5. Nupiešk 3 veidukais daugiau.



6. Prisimink skaičių 5 ir 4 sandarą.




7. Iš kokių dviejų skaičių sudarytas skaičius ant automobilio durų? Įrašyk antrą skaičių.



8. Parašyk skaičius taip, kad nelygybė būtų teisinga.

< 4 < > 2 > > 1 <
 > 3 > < 3 < < 3 >

9. Pakartok skaičių rašybą.



Kaip man sekasi?

