







# 1. LAIKO SKAIČIAVIMAS

1  Raudonai pažymėk laikrodžius, kurie nupiešti neteisingai. Ištaisyk klaidas.



2  Nupiešk vadovėlyje matytus laikrodžius.

Smėlio laikrodis

Saulės laikrodis

Mechaninis laikrodis

3 Pažymėk, kada tai vyksta. (Priedai, p. 57)















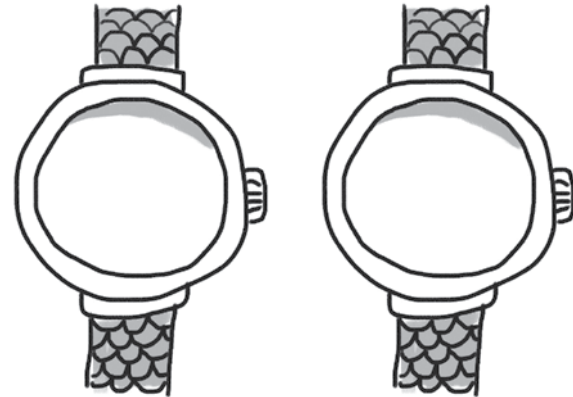
## 5. LAIKAS

- 1   Nuspalvink dvibalsius eilėraščio posmelyje. Parašyk, kokių dvibalsių trūksta.



Juozas Erlickas

Laikas niekados nelaukia,  
Keistas jis, kaip sniegas –  
Buvo, rodos, jo per daug –  
Nebeliko nieko.

Iš knygos „Vaikystės pusnys ir žiedai“



- Kokie laikrodžiai čia nupiešti?

- 2   Suskirstyk tekstą sakiniais. Sakinio gale padėk reikiamą ženklą.

Lauke sninga Vaikai bėga į kiemą Ten jie žaidžia  
Vieni kitus gaudo Visiems labai linksma











- Kiek tekste sakinių?
- Kiek žodžių?
- Kiek žodžių turi dvibalsius?  Pabrauk juos.
- Kuris žodis turi du dvibalsius? \_\_\_\_\_
- Kuris iš šių posakių tinka tekstui? Nuspalvink.

Sugaištas  
laikas.

Laikas  
neprailgo.


Gerai  
praleistas  
laikas.

- 3   Pažaisk su draugu. Per minutę surašyk kuo daugiau žodžių su dvibalsiais.




# 1. LAIKRODIS


1 Nupiešk laikrodžiams rodykles taip, kad jie rodytų parašytą laiką.




8 val.




12 val.




2 val.




6 val.




11 val.




7 val.




10 val.




4 val.




5 val.



3 val.

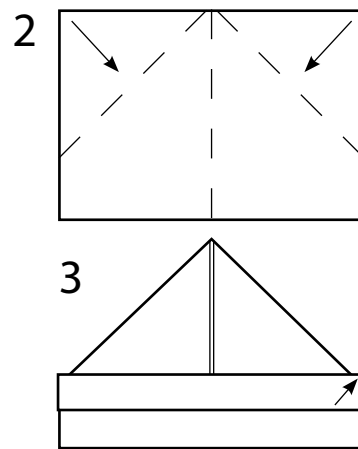
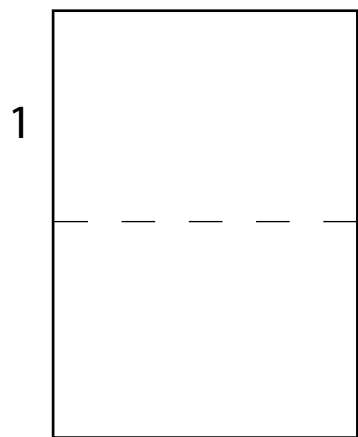


9 val.



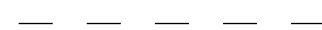
1 val.

2 Rokas lankstė iš popieriaus pilotę.

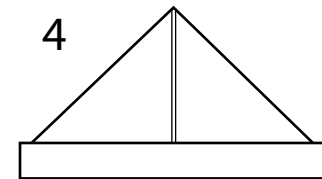


3

Lenkimo linijos




4



Išsilankstyk ir tu.

Išardęs suskaičiuok, kiek matai trikampių, kiek – stačiakampių.



# 2. SKAIČIAUS DIDINIMAS KELIAIS VIENETAIS

1 Nupiešk tiek monetų, kad kiekvienoje krūvelėje pinigų būtų nurodyta suma daugiau.

3 ct daugiau



$$15 + 3 = \square \square$$

4 ct daugiau



--	--	--	--	--	--

1 ct daugiau



--	--	--	--	--	--

8 ct daugiau



--	--	--	--	--	--

8 ct daugiau



--	--	--	--	--	--

5 ct daugiau



--	--	--	--	--	--

2 Padidink figūras nurodytu skaičiumi langelių.

$  \begin{array}{ c c c c }  \hline  & & & \\  \hline  +4 & & & \\  \hline  & & & \\  \hline  \end{array}  $	$  \begin{array}{ c c c c }  \hline  & & & \\  \hline  +5 & & & \\  \hline  & & & \\  \hline  \end{array}  $	$  \begin{array}{ c c c c }  \hline  & & & \\  \hline  +6 & & & \\  \hline  & & & \\  \hline  \end{array}  $
$14 + 4 =$	$11 + 5 =$	$12 + 6 =$