







## 6. LIETUVA

- 1  Prisimink Lietuvos vėliavos ir herbo spalvas. Nuspalvink.





- 2    Išeik pasivaikščioti į mokyklos kiemą. Apsidairyk – gal pamatysi Lietuvos trispalvę. Kur ji iškelta? Su mokytoja pasikalbėkite apie tai, ką reiškia prie mokyklos iškelta vėliava.


Parašyk, ką matei: .....

.....

.....


- Ką reiškia, kai vėliavos iškeliamos prie kiekvieno pastato?

- 3   O ar tavo mokykla turi savo vėliavą? Kur ją matei? Nupiešk ją. Jei mokykla neturi vėliavos – pabandyk pavaizduoti, kokia ji galėtų būti.



# 11. GIESMĖ LIETUVAI

1   Nuspalvink Lietuvos vėliavą. Parašyk atsakymus į klausimus.



• Kaip vadinama Lietuvos vėliava?

---



---



---

• Kokių spalvų juostos sudaro Lietuvos vėliavą?



---




---



---

2   Nuspalvink Lietuvos herbą. Parašyk atsakymus į klausimus.



• Kaip vadinamas Lietuvos herbas?

---



---



---

• Ką rankoje laiko raitelis?



---



---



---

3   Pasiklausyk himno. Rask iškritusių žodžių vietas.

## Tautiška giesmė

Lietuva,  mūsų,  
Tu didvyrių žeme,  
Iš praeities Tavo   
Te stiprybę semia.

Tegul Tavo  eina  
Vien takais dorybės,  
Tegul  Tavo naudai  
Ir žmonių gėrybei.

Tegul  Lietuvoj  
Tamsumas prašalina,  
Ir , ir tiesa  
Mūs žingsnius telydi.

Tegul meilė Lietuvos  
 mūsų širdyse,  
Vardan tos Lietuvos  
 težydi!



Vienybė

šviesa

Dega

dirba

Tėvyne

sūnūs

vaikai

saulė



Kasmet liepos 6 dieną  
21 val. įvairiausiose pasaulio  
vietose lietuviai susirenka  
giedoti himno.



# 11. APVALIŲ DEŠIMČIŲ ATIMTIS

1 Parašyk duotus skaičius nuo mažiausio iki didžiausio.

50	38	72	46	27	30	85	19

2 Parašyk, kiek langelių buvo iš pradžių, kiek nukirpo, kiek liko.

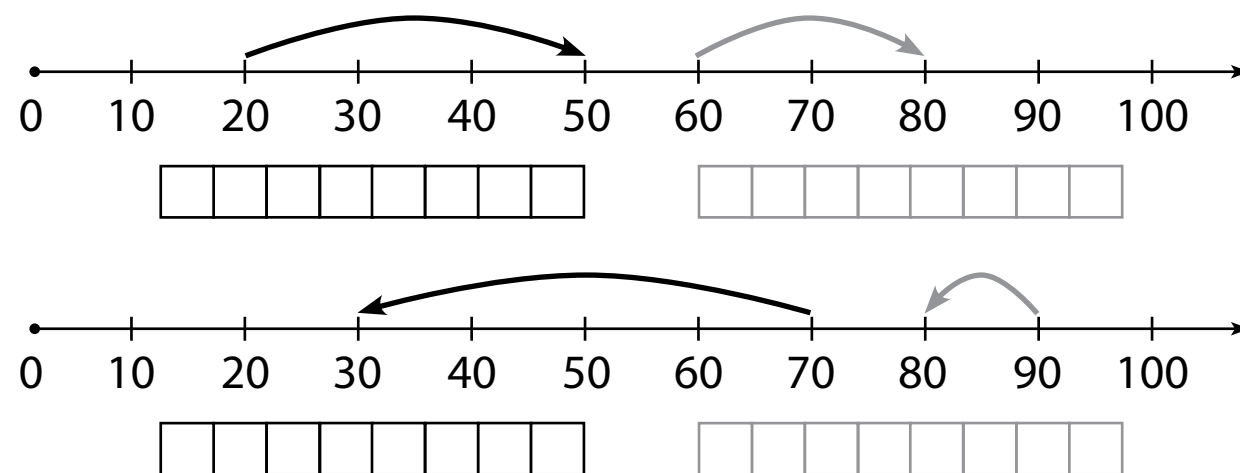
Buvo Nukirpo Liko

70 - 10 =

3 Apibrėžk daiktus, kuriuos Agnė galėtų rinktis.

# 12. TESTAS

1 Parašyk rodyklėmis pažymėtus veiksmus.



2 Įrašyk ženklus >, < arba =.

30 ○ 35	31 ○ 29	72 ○ 76	88 ○ 89
28 ○ 26	39 ○ 39	94 ○ 49	69 ○ 96

3 Rokas turi 9 , o leva turi 4 . Kiek daugiau kubelių turi Rokas?

Sprendimas

4 Figūrą, užimančią **didžiausią** plotą, nuspalvink rudai, užimančią **mažiausią** plotą – mėlynai.

